

IV elementare

La scorsa volta vi abbiamo mostrato come disegnare un rettangolo “sdraiato” visto da lontano.
Ora andiamo avanti con cose che secondo noi sono sempre più difficili, ma che forse voi troverete più semplici. Se è così, scrivetecelo in fondo alla scheda delle risposte, per favore.

A)

Guardate la figura 1. Qualcuno ha cominciato a disegnare due binari che sembra si stiano allontanando dalla linea di terra dove si trova un osservatore.

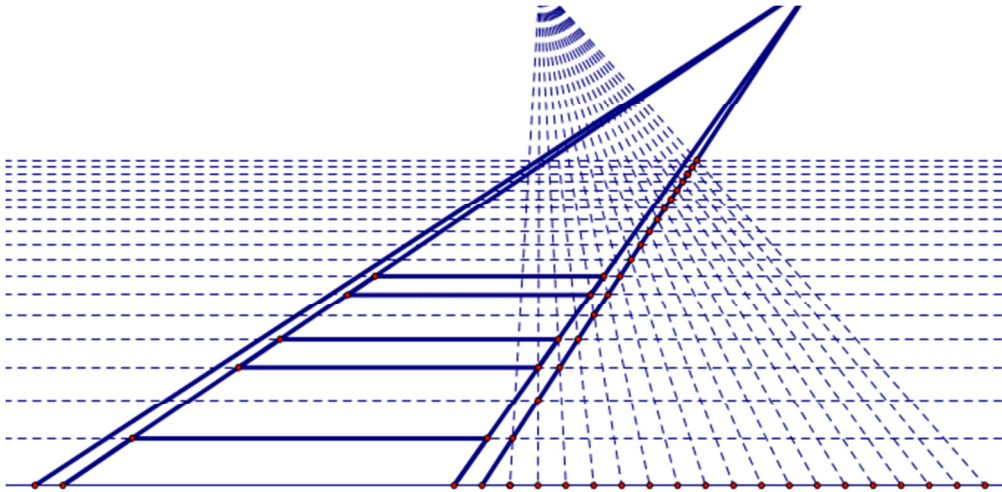


Figura 1

A1) Riuscite a tracciare almeno altre due o tre traversine, più lontane dall'osservatore rispetto a quelle già disegnate? Fatelo nella figura 1R della scheda delle risposte.

B)

Vi copiamo qui sotto un'immagine tratta da un depliant di una mostra all'aperto. In essa potete vedere una scultura costituita da tre blocchi.

•

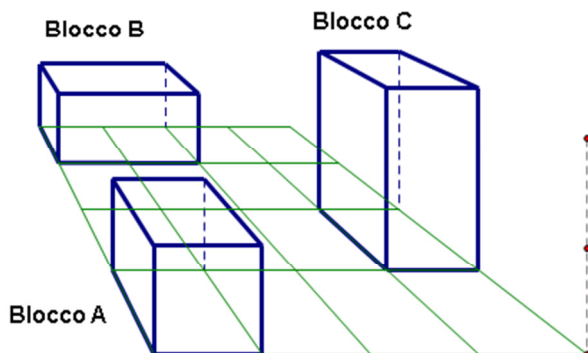


Figura 2

B1) Da questa immagine che cosa riuscite a dire sui tre blocchi?

Se vi mostriamo alcune linee di costruzione di un disegno preparatorio dello scultore che li ha prodotti, riuscite ad aggiungere qualche altra informazione?

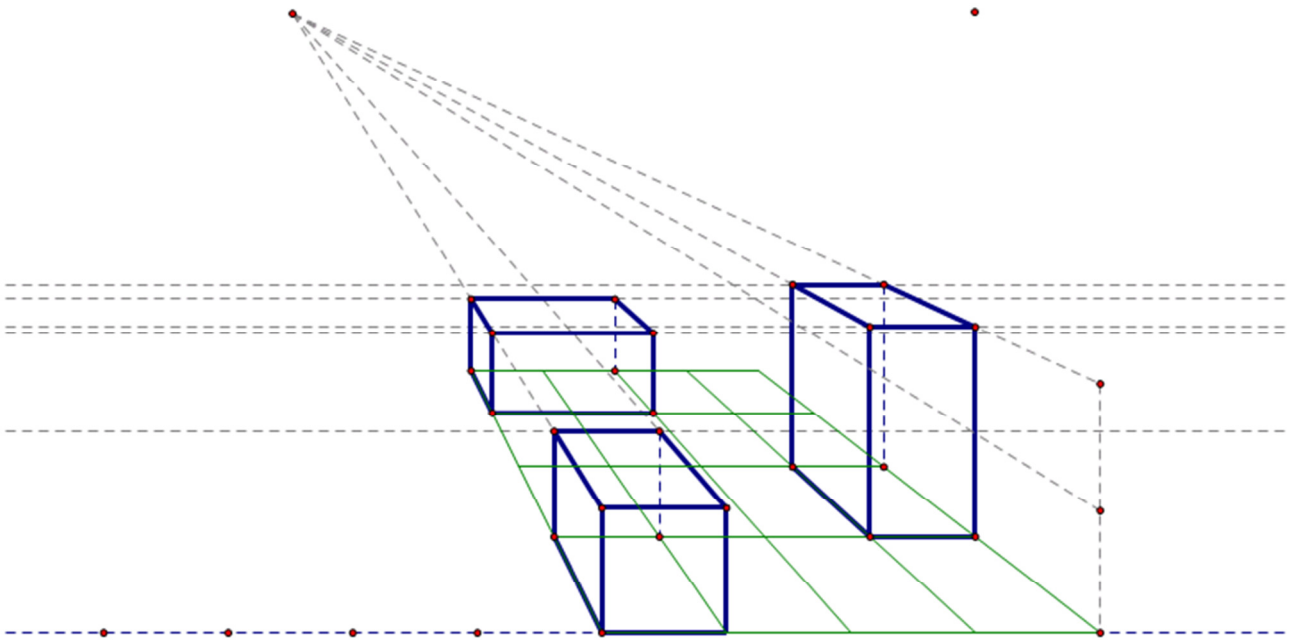


Figura 2bis

- B2) Sapete che cosa hanno in comune il blocco A e il blocco B e che cosa di diverso?
- B3) Sapete che cosa hanno in comune il blocco B e il blocco C b e che cosa di diverso?
- B4) Sapete che cosa hanno in comune il blocco A e il blocco Ca e che cosa di diverso?

Scheda delle risposte - classe IV primaria

Cod. docente..... Cod. classe..... Gruppo.....

A1) Abbiamo tracciato nel disegno qui sotto le altre traversine.

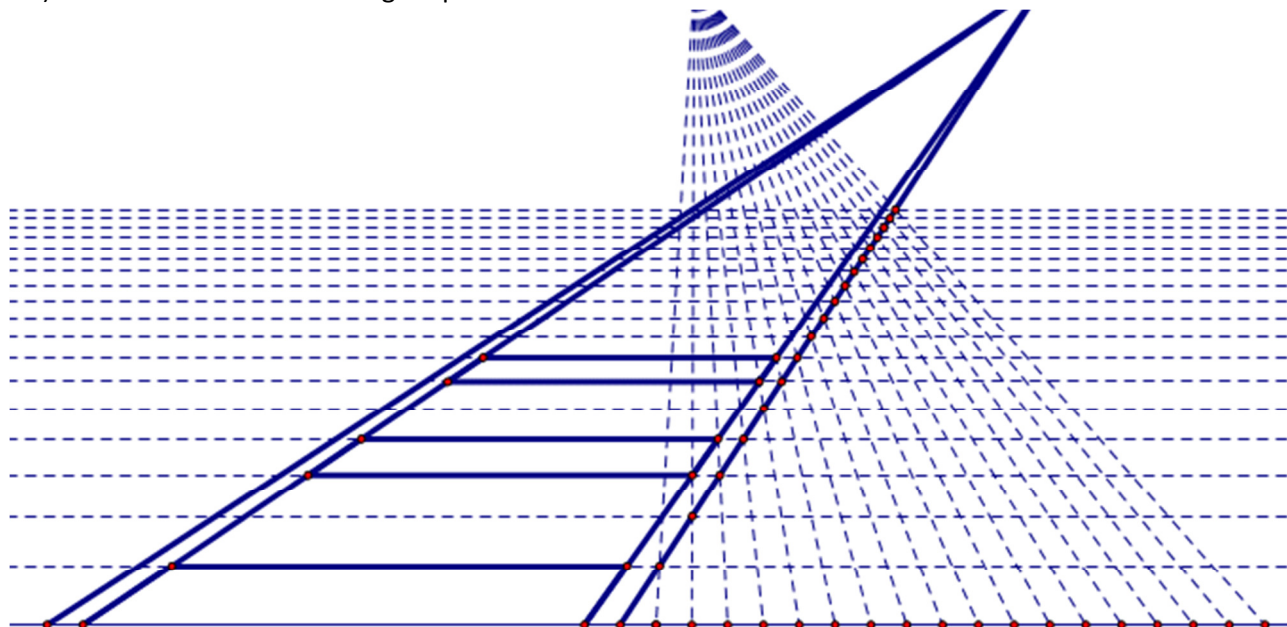


Figura 1R

B1)

Dei tre blocchi riusciamo a dire che

.....
.....
.....
.....

B2) Confrontando il blocco A con il blocco B possiamo dire che

.....
.....

B3) Confrontando il blocco B con il blocco C possiamo dire che

.....
.....

B4) Confrontando il blocco A con il blocco C possiamo dire che

.....
.....